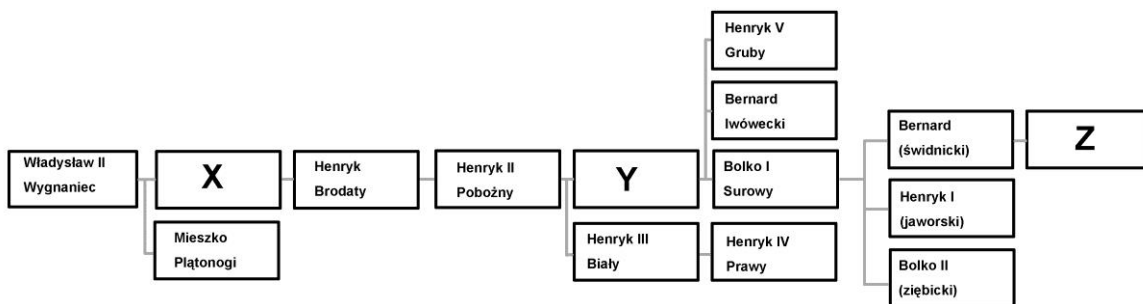


Sudety

15.07.2011 r. — część pisemna

1. Wybierz prawidłowe uzupełnienie uproszczonego drzewa genealogicznego Piastów śląskich:



- X – Konrad (głogowski), Y – Władysław (abp salzburski), Z – Henryk II,
- X – Bolesław I Wysoki, Y – Mieszko II Otyły, Z – Mikołaj (ziębicki),
- X – Jarosław (opolski), Y – Mieszko, Z – Henryk VI Dobry,
- X – Bolesław I Wysoki, Y – Bolesław II Łysy (Rogatka), Z – Bolko II Mały.


2. Wybierz właściwą kolejność chronologiczną wydarzeń:

- śmierć cesarza Karola VI, bitwa pod Małujowicami, pokój wrocławski, konwencja w Altranstädt,
- konwencja w Altranstädt, bitwa pod Małujowicami, śmierć cesarza Karola VI, pokój wrocławski,
- bitwa pod Małujowicami, pokój wrocławski, konwencja w Altranstädt, śmierć cesarza Karola VI,
- konwencja w Altranstädt, śmierć cesarza Karola VI, bitwa pod Małujowicami, pokój wrocławski.

3. W bitwie nad Kaczawą (1813):

- wojska pruskie pokonały Austriaków wspomaganymi przez oddziały saskie,
- wojska prusko-rosyjskie pokonały armię napoleońską,
- wojska austriackie (przy biernej obecności sprzymierzonych Rosjan) pokonały Prusaków,
- wojska koalicji Prus i Saksonii pokonały armię rosyjską.

4. Przedstawiony na płycie rycerz pochodził z rodu:



- a. Seydlitz,
- b. Zedlitz,
- c. Schaffgotsch,
- d. Hochberg.

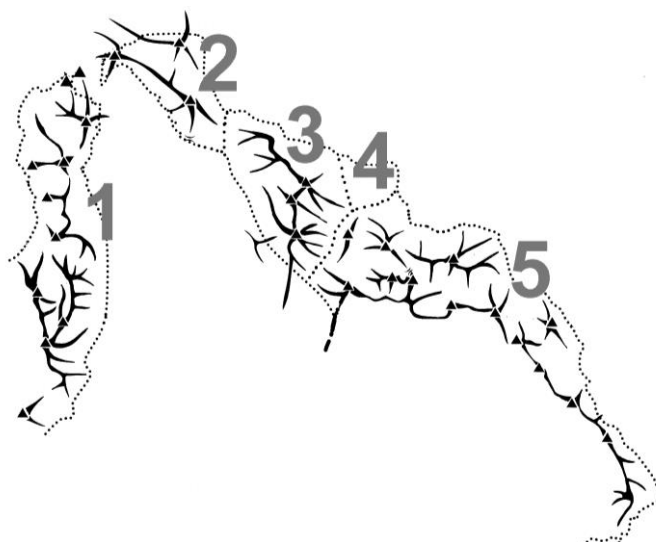
5. „Daisy” to rodzinne określenie:

- a. Izabelli Czartoryskiej, pani na Puławach, która w 1815 r. odbyła podróż na kurację do Cieplic,
- b. Marii Teresy Oliwii Cornwallis-West, żony Jana Henryka XV von Hochberg, pani na Książu i Pszczynie,
- c. Fryderyki von Reden (z domu v. Riedesel), żony hr. Fryderyka Wilhelma von Reden, ministra do spraw Śląska, pani na Bukowcu,
- d. Marianny Orańskiej, królowny holenderskiej, żony ks. Albrechta Hohenzollerna, dla której wzniesiono pałac w kamieńcu Ząbkowickim.

6. Historyczną granicę Śląska i Górnych Łużyc stanowi:

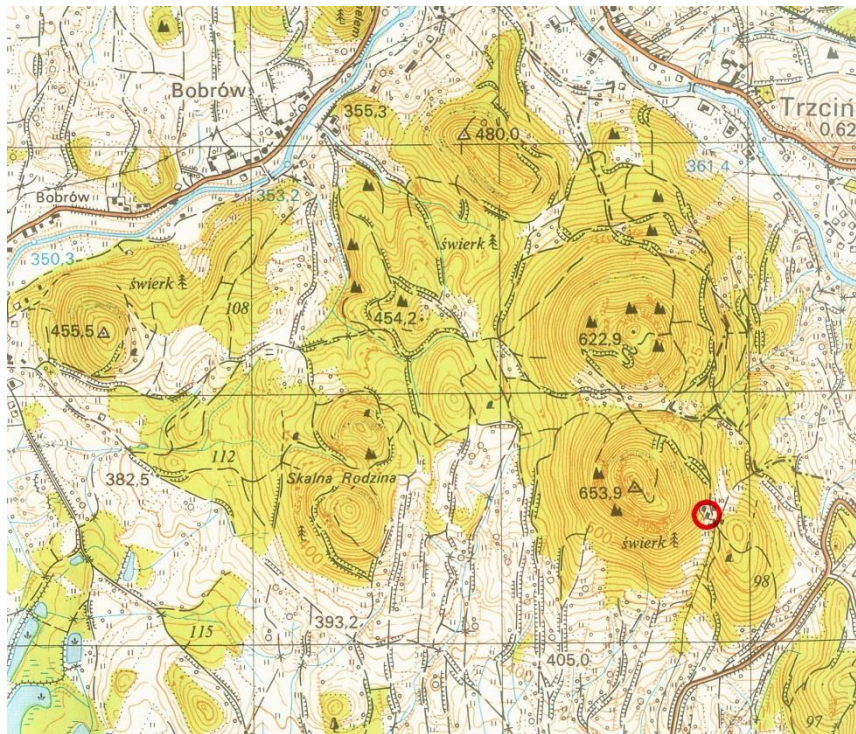
- a. Szprewa,
- b. Nysa Łużycka,
- c. Kwisa,
- d. Bóbr.

7. Poniższy szkic przedstawia przebieg grzbietów polskiej części Gór Kamiennych. Wskaż poprawne określenie mikroregionów:



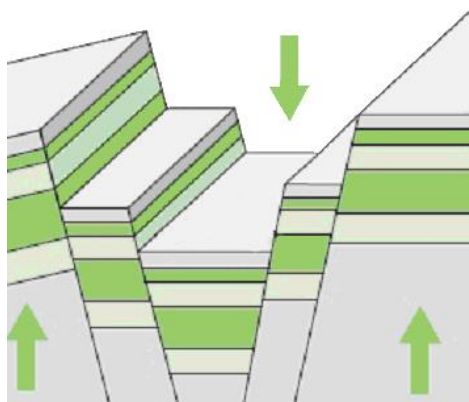
- a. 1 – Czarny Las, 2 – Góry Krucze, 3 – Pasma Dzikowca, 4 – Kotlina Kuźnicka, 5 – Pasma Lesistej Wielkiej,
 - b. 1 – Góry Krucze, 2 – Czarny Las, 3 – Pasma Dzikowca i Lesistej Wielkiej, 4 – Wyżyna Unistawska, 5 – Góry Suche,
 - c. 1 – Góry Krucze, 2 – Góry Czarne, 3 – Pasma Dzikowca, 4 – Wyżyna Unistawska, 5 – Grzbiet Graniczny,
 - d. 1 – Zawory, 2 – Góry Krucze, 3 – Mieroszowskie Ściany, 4 – Wyżyna Jabłowska, 5 – Góry Suche.
8. Chełmy to tradycyjna nazwa:
- a. fragmentu Pogórza Złotoryjskiego,
 - b. Wzgórz Strzegomskich,
 - c. pasma wzgórz ciągnących się wzdłuż doliny Kaczawy,
 - d. zachodniej części Pogórza Bolkowskiego.
9. Góry Opawskie to polska nazwa:
- a. północnej części Jesioników,
 - b. Rychlebskich hor,
 - c. Zlatohorskiej vrchoviny,
 - d. Hanušovickéj vrchoviny.

10. Poniżej znajduje się mapa Gór Sokolich. Azymut ze schroniska „Szwajcarka” (oznaczonego kółkiem) na Sokolik to:




- a. 23° ,
- b. 70° ,
- c. 290° ,
- d. 337° .

11. Schemat przedstawia:



- a. fałd,
- b. rów tektoniczny,
- c. zrąb,
- d. terasy w dolinie rzecznej.

12. Przełom Bobru między Rudawami Janowickimi i Górami Ołowianymi to przykład:
- doliny U-kształtnej,
 - przełomu epigenetycznego,
 - przełomu antecendentnego,
 - przełomu strukturalnego.
13. Zwyczaje używania sań rogatych, karpli (raket śnieżnych), tyczkowania dróg w górach zostały wprowadzone w Sudety:
- przez rodzimą ludność słowiańską,
 - przez walońskich poszukiwaczy kruszców i kamieni szlachetnych,
 - przez pochodzących z Alp (Styria, Karyntia) drwali,
 - przez wędrujących wzdłuż łuku Karpat i docierających w Sudety wołoskich pasterzy.
14. Który z opisów poprawnie przedstawia kolejność faz budowy kościoła przedstawionego na rysunku? (przy założeniu, że nie występują tu style historyczne – neogotyck itd.)



- budowa gotyckiego kościoła (obecne prezbiterium) – rozbudowa przez dostawienie renesansowego korpusu nawowego – dobudowa barokowej kruchty – dobudowa klasycystycznej kaplicy przy prezbiterium,
- budowa romańskiego kościoła – budowa gotyckiego prezbiterium na miejscu starszego – dobudowa renesansowej kruchty – dobudowa barokowej kaplicy przy prezbiterium,
- budowa romańskiego kościoła – dobudowa manierystycznej kruchty – dobudowa późnogotyckiego prezbiterium – dobudowa renesansowej kaplicy przy prezbiterium,
- budowa romańskiego kościoła (obecne prezbiterium) – dobudowa gotyckiego korpusu nawowego – dobudowa renesansowej kaplicy przy prezbiterium – dobudowa manierystycznej kruchty.

15. Odczytaj datę, upamiętnioną w tej inskrypcji w kościele krzeszowskim:

HAEC EST CONSTRUCTA PRO GLORIA AC VENERATIONE IESV MARIAE
IOSEPHI IPSI VSQVE BEATAE CONSANGVINITIATIS CHRISTI

(To jest budowla dla chwały i czci Jezusa, Marii, Józefa, ich samych oraz błogosławionych krewnych Chrystusa)

- a. 1687,
- b. 1693,
- c. 1712,
- d. 1723.

16. Rzeźby wyobrażają święte (od lewej):

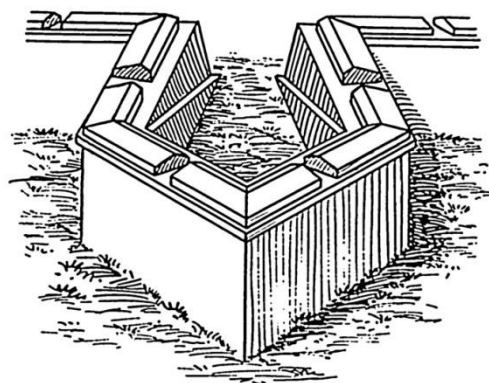
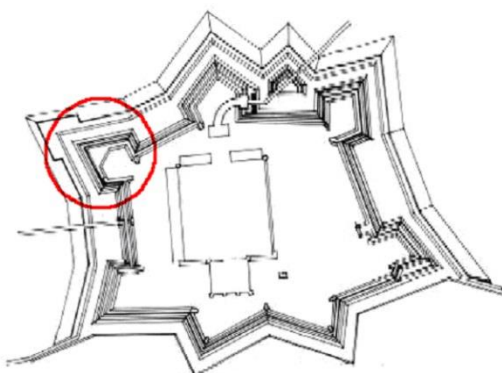
- a. Katarzyna, Jadwiga,
- b. Barbara, Dorota,
- c. Elżbieta, Jadwiga,
- d. Katarzyna, Barbara.

17. Wybierz prawidłowy opis konstrukcji budynku



- Parter: część mieszkalna o konstrukcji sumikowo-łatkowej, część gospodarcza murowana. Piętro z tzw. „pruskiego muru”,
- Parter o konstrukcji szkieletowej. Piętro przystupowe, częściowo oszalowane deskami,
- Parter: starsza część drewniana (ryglowa), nowsza część murowana. Piętro: starsza część z tzw. „pruskiego muru”, nowsza drewniana (zrębowa),
- Parter: część mieszkalna zrębowa, część gospodarcza murowana. Piętro o konstrukcji ryglowej wsparte na przystupach.

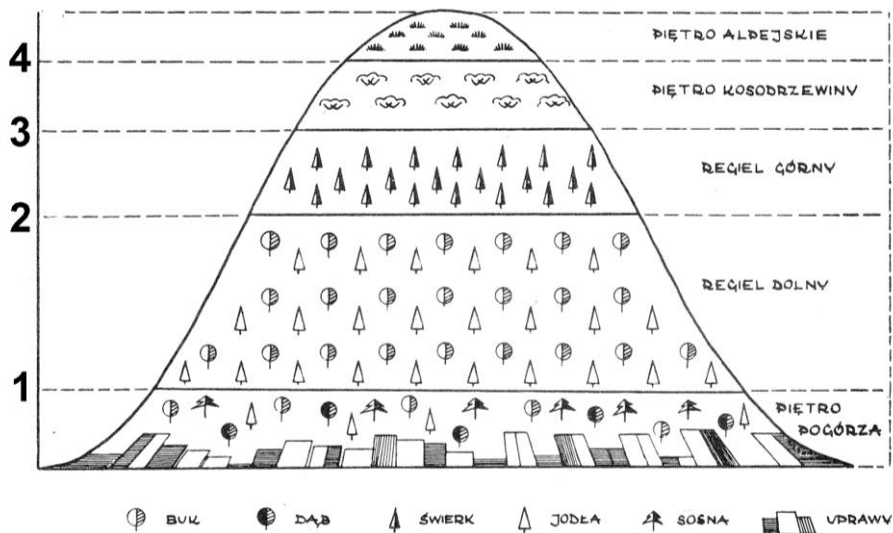
18. Zaznaczony na planie i przedstawiony na rysunku element fortyfikacyjny to:



- baszta,
- basteja,
- bastion,
- kaponiera.

19. Na poniższym schemacie rozmieszczenia pięter roślinnych w Karkonoszach należy wpisać następujące wysokości granic (w metrach n.p.m.):

- 1 – 400, 2 – 750, 3 – 1350, 4 – 1500,
- 1 – 500, 2 – 1200, 3 – 1400, 4 – 1550,
- 1 – 400, 2 – 800, 3 – 1150, 4 – 1250,
- 1 – 500, 2 – 1000, 3 – 1250, 4 – 1450.



20. Nadrzeczny las, okresowo zalewany podczas przyborów wód, w którego drzewostanie dominują zwykle wierzby, brzozy, topole, często z domieszką olszy, dębu, jesionu i wiązu to:

- ols (oles),
- łęg,
- grąd,
- moczar.

21. Torfowisko wysokie to torfowisko

- położone na grzbiecie górskim lub na szczycie,
- zasilane jedynie przez wody opadowe,
- położone na wysokości powyżej 1000 m n.p.m.,
- którego powierzchnia jest wyniesiona w stosunku do otaczającego terenu.

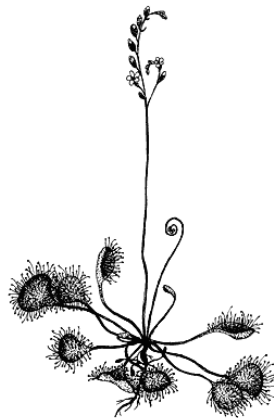
22. Widoczna na zdjęciu roślina (która była motywem godła RGV) to:



kwiaty różowofioletowe

- a. pierwiosnka maleńka,
- b. goryczka orzęsiona,
- c. skalnica śnieżna,
- d. fiołek sudecki.

23. W jakim środowisku możemy spotkać owadożerną rosiczkę (okrąglistą):




- a. las bukowy,
- b. wilgotna łąka,
- c. zarośla kosodrzewiny,
- d. torfowisko wysokie.

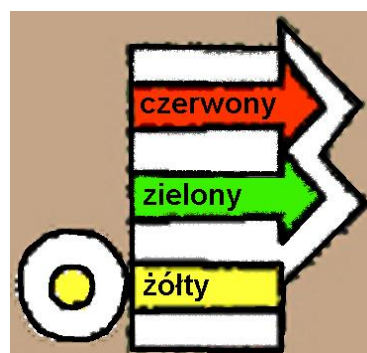
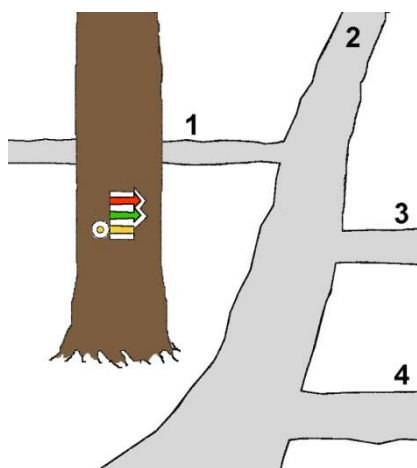
24. W Nowym Kościele, Płóczkach, Lubiechowej można znaleźć:

- a. nefryt,
- b. agat,
- c. chryzopraz,
- d. granaty.

25. Widoczne na zdjęciu podłużne rynny na zboczach Kotła Łomniczki (zaznaczone strzałkami) to:



- pozostałości tzw. ryz, służących do transportu ściętych pni drzew,
 - efekty niszczącego działania lawin śnieżnych,
 - ślady sptywów błotno-gruzowych (mur),
 - rozsypiska hałd skały płonej z kopalni „Heinrich” i „Gustav”.
26. W przedstawionej sytuacji (przy założeniu poprawnego znakowania, zgodnego z „Instrukcją znakowania szlaków”) szlaki prowadzą:



- czerwony drogą 3, zielony drogą 4, żółty kończy się w tym punkcie,
- czerwony i zielony drogą 3, żółty drogą 2,
- czerwony i zielony drogą 4, żółty drogą 2,
- żółty drogą 2, a określenie przebiegu szlaków czerwonego i zielonego możliwe jest dopiero po zauważeniu następnych znaków.

- 27. Szlak pieszy znakowany kolorem żółto-niebiesko-żółtym to:**
- Szlak Ułanów Legii Nadwiślańskiej,
 - Szlak Martyrologii,
 - Szlak Marianny Orańskiej,
 - Szlak Cysterski.
- 28. Wybierz zestaw, w którym wszystkie 3 nazwy obiektów noclegowych są prawidłowo skojarzone z regionem, w którym się znajdują:**
- Andrzejówka – Góry Wałbrzyskie, Orlica – Góry Sowie, Pod Kopą Biskupią – Góry Opawskie,
 - Orzeł – Góry Sowie, Pod Muflonem – Góry Orlickie, Zygmunówka – Góry Bardzkie,
 - Szwajcarka – Rudawy Janowickie, Na Iglicznej – Masyw Śnieżnika, Odrodzenie – Karkonosze,
 - Śląski Dom – Karkonosze, Jagodna – Góry Orlickie, Pasterka – Kotlina Kłodzka.
- 29. Wzywając pomoc w górach należy wysłać sygnały dźwiękowe lub świetlne w częstotliwości:**
- 6 razy na minutę w odstępach 10-sekundowych, po czym następuje minutowa przerwa,
 - 6 razy na minutę w odstępach 10-sekundowych, ciągle bez przerwy,
 - 3 razy na minutę w odstępach 20-sekundowych, po czym następuje minutowa przerwa,
 - 3 razy na minutę w odstępach 20-sekundowych, ciągle bez przerwy.
- 30. Granicę państwową z grupą składającą się z Polaków lub obywateli państw należących do układu z Schengen można w Sudetach przekraczać:**
- w dowolnym miejscu i czasie,
 - tylko przez wyznaczone przejścia graniczne (drogowe i turystyczne), w godzinach ich funkcjonowania,
 - w dowolnym miejscu i czasie, poza obszarem terenów chronionych – parków narodowych i rezerwatów; na ich terenie tylko wyznaczonymi szlakami turystycznymi,
 - tylko przez wyznaczone przejścia graniczne (drogowe i turystyczne), w godzinach ich funkcjonowania oraz korzystając ze szlaków turystycznych przecinających granicę.